

# Oefeningen Rekenoets 2F



Vraag 1

$33 + (18 \times 32) - 17 =$

Vraag 2



In 2012 hebben Nederlandse vissersboten in totaal een gewicht van 66 000 ton vis gevangen. Deze visvangst bracht per ton drie en een half duizend euro op.

**Hoeveel miljoen euro bracht deze visvangst totaal op?**

 euro

Vraag 3



Je verkoopt tijdens een schoolwandeltocht 702 mokken chocolademelk. Hiervoor zijn 255 pakken chocolademelk ingekocht.

**Hoeveel heb je met de verkoop van chocolademelk verdiend?**

Inkoopprijs per pak: € 1,36  
Verkoopprijs per mok: € 1,25

 euro

Vraag 4

Een voetbalteam bestaat uit 15 spelers. Een sponsor betaalt voor elke speler één shirt en één broek.

**Hoeveel betaalt de sponsor in totaal?**

 euro

Vraag 5  $25 + (15 \times 27) - 49 =$

Vraag 6 Een eetcafé koopt dozen tosti's in. Het eetcafé verkoopt tosti's voor € 3,00 per stuk.

**Hoeveel is het verschil tussen verkoop en inkoop van deze doos tosti's?**

 euro

Vraag 7 Pieter wil deze zandbak tot 5 centimeter onder de rand vullen met zand.

**Hoeveel kubieke meter zand heeft hij daarvoor nodig?**

 m<sup>3</sup>

Vraag 8



Routeplanner:  
Afstand: 1156 km  
Reistijd zonder pauze: 10 uur 45 min

Je rijdt met de auto van Middelburg (A) naar Montpellier (B).

Je vertrekt om 6.30 uur. Na elke twee uur rijden houd je een kwartier pauze.

**Hoe laat kom je volgens de routeplanner aan in Montpellier?**

 :  uur

Vraag 9

Op een festivalterrein mag gemiddeld tweeëneenhalve bezoeker per m<sup>2</sup> worden toegelaten. De totale oppervlakte van het terrein is 6 hectare.

Een hectare is 10 000 m<sup>2</sup>.

**Hoeveel bezoekers mogen er maximaal op het terrein worden toegelaten?**

Vraag 10

Je gaat een terras van 4,00 m × 5,50 m betegelen met terrastegels Sydney.

**Hoeveel kosten de tegels?**

**Terrastegel Sydney**

50 x 50 cm  
antraciet



Per vierkante meter € 19,96

Vraag 11

12 × 225 gram =

Vraag 12

**Hoeveel volle bekere kun je maximaal vullen uit deze fles bronwater?**


Bronwater  
inhoud: 18,9 liter

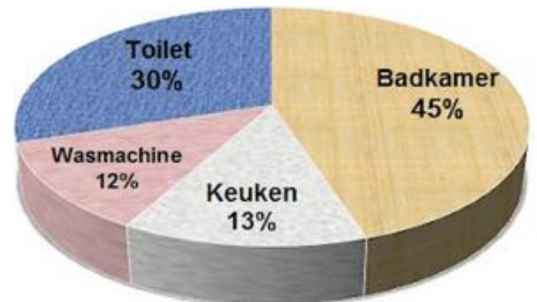


volle beker  
inhoud: 20 centiliter

Vraag 13

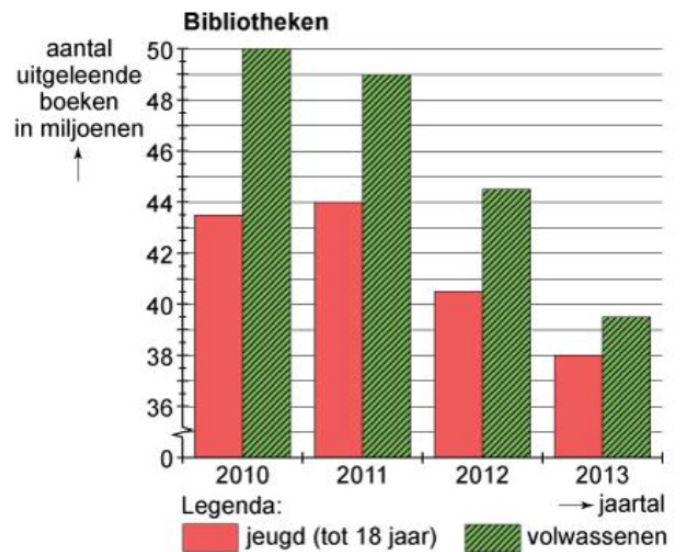
In Nederland verbruikt een persoon gemiddeld 120 liter water per dag.

**Hoeveel liter water verbruikt een persoon gemiddeld per dag in de badkamer?**



Vraag 14

**Hoeveel miljoen boeken werden in totaal via bibliotheken uitgeleend in 2010?**



Vraag 15

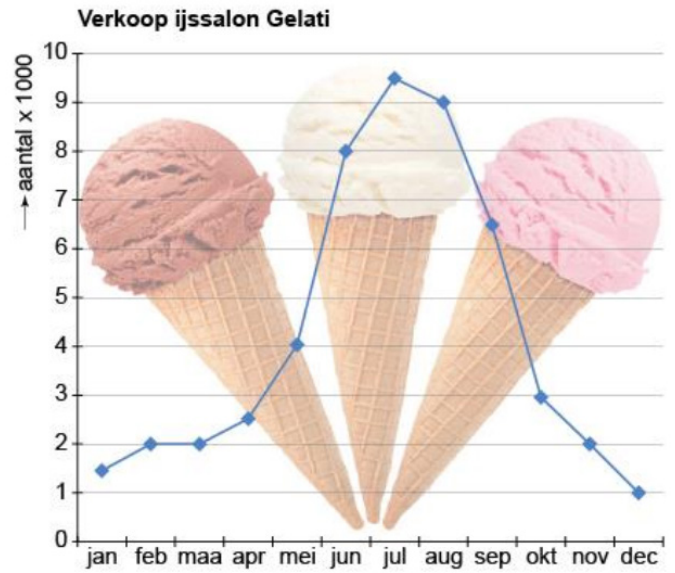
| Leeftijd                              | per keer | per 24 uur      |
|---------------------------------------|----------|-----------------|
| volwassenen en kinderen vanaf 12 jaar | 5 ml     | maximaal 6 keer |
| kinderen van 6 -12 jaar               | 5 ml     | maximaal 4 keer |

Een kind van 8 jaar gebruikt de maximale hoeveelheid hoestsiroop. In een flesje zit 140 ml.

**Voor hoeveel dagen is één fles hoestsiroop voor dit kind voldoende?**

Vraag 16

Hoeveel ijsjes zijn in het laatste kwartaal verkocht?

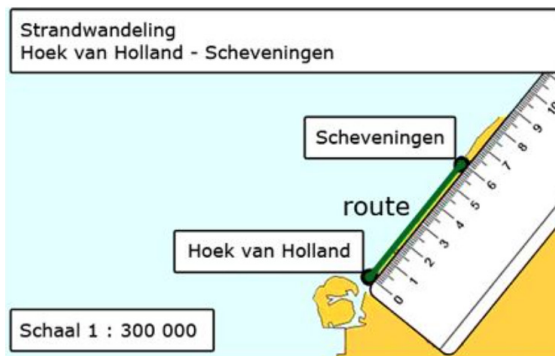


Vraag 17

Hoeveel kosten twee broeken uit deze aanbieding?



Vraag 18



Hoe ver is het lopen van Hoek van Holland naar Scheveningen?

Vraag 19

Je maakt dit recept voor zes personen.

**Hoeveel ml water heb je nodig?**

**Recept rode vruchtenijs**

**4 personen**

**Dit heb je nodig:**

- 250 g aardbeien
- 125 g blauwe bessen
- 125 g frambozen
- 100 g suiker
- 120 ml water
- 1 el citroensap
- 1 blaadje gelatine



Vraag 20

**Wat was de prijs van het LCD-scherm zonder korting?**

*Rond je antwoord af op een geheel getal*

Nu met **54%** korting

nog maar **€699,-**

